

CHÀO MỪNG THẦY CÔ
ĐẾN THĂM LỚP 1D

MÔN TOÁN

BÀI 8: THỰC HÀNH
LẮP GHÉP, XẾP HÌNH (Tiết 2)

GV: Lâm Thị Lanh




KHỞI ĐỘNG


I Like
you.

HỘP QUÀ BÍ MẬT


HAPPY







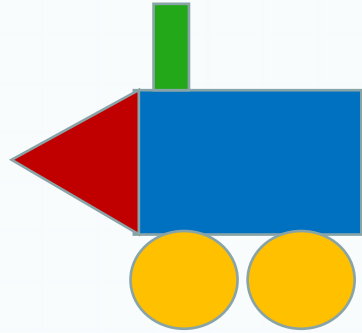
Hình bên có
mấy hình?



Có 2 hình: 1 hình vuông
và 1 hình tam giác



Siàng




Hình bên có
mấy hình?




Có 5 hình: 2 hình tròn, 1 hình
tam giác, 2 hình chữ nhật





3 Hình: 1 hình vuông và 2 hình tam giác





Hình bên
có mấy hình




Có 4 hình: 2 hình tròn 1 hình tam giác, 1 hình chữ nhật





Hình bên có
mấy hình?

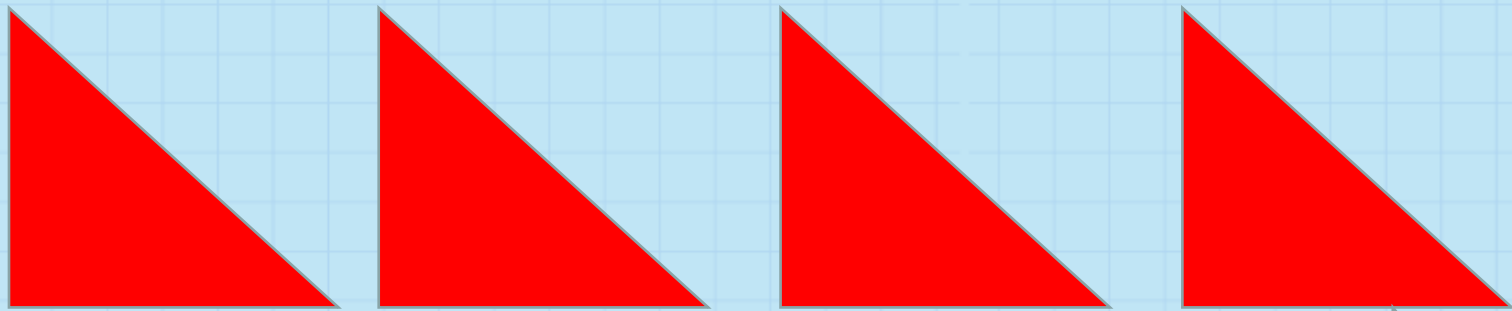



Có 2 hình: 1 hình tam
giác, 1 hình chữ nhật


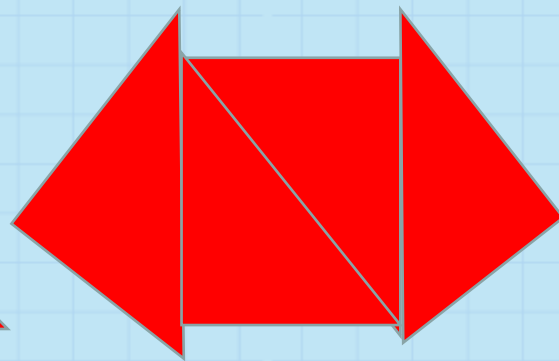









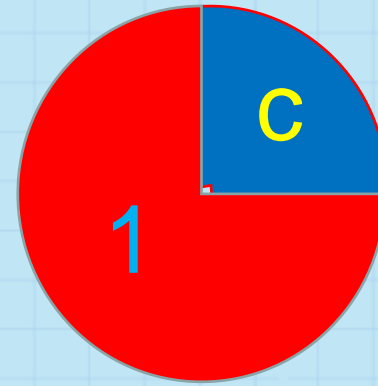

Bài 1: Bạn Việt cắt miếng bìa hình vuông thành bốn miếng bìa hình tam giác:



Em ghép 4 tấm bìa hình tam giác để có mỗi hình sau:



Bài 2: Tìm hai miếng bìa để ghép được hình tròn, hình vuông, hình tam giác:





Vận dụng

Con hãy tìm các đồ dùng được ghép bởi các hình khác nhau trong lớp

Củng cố bài học

